


パワーアップ問題 1年生のふくしゅう① 「なんばんめ」	ねん                  くみ
-----------------------------------	------------------------

絵を見てこたえましょう。

まえ

うしろ



ライオンは、まえからなんばんめですか。  
 また、うしろからなんばんめですか。

ライオンは、まえから  ばんめで、  
 うしろから  ばんめ

ゴリラは、まえからなんばんめですか。  
 また、うしろからなんばんめですか。

ゴリラは、まえから  ばんめで、  
 うしろから  ばんめ

ウサギは、まえからなんばんめですか。  
 また、うしろからなんばんめですか。

ウサギは、まえから  ばんめで、  
 うしろから  ばんめ

パワーアップ問題



1年生のふくしゅう②

「数を数える」

ねん

くみ

1. りんごは なんこ ありますか。






ヒント

10のまとまりをつくると  
かぞえやすいね。

こたえ

こ


2. みかんは なんこ ありますか。



こたえ

こ

3. いちごは なんこ ありますか。



こたえ

こ

パワーアップ問題 1年生のふくしゅう③ 「たし算」	ねん          くみ
---------------------------------	----------------

たしざんをしましょう

例 <sup>れい</sup> 8 + 4

○○○○○○○○ たす ○○○○ だから ぜんぶで○が  こ

だから  $8 + 4 = 12$

①  $5 + 2$

②  $7 + 6$

③  $4 + 8$

④  $9 + 5$

⑤  $3 + 9$

⑥  $6 + 8$

⑦  $7 + 3$

パワーアップ問題 1年生のふくしゅう④ 「ひき算」	ねん          くみ
---------------------------------	----------------

ひきざんをしましょう

例 <sup>れい</sup> 1 1 - 3

○○○○○○○○○○○○ から ○○○を ひくと のこりの○は  こ

だから 1 1 - 3 = 8

① 1 0 - 6

② 1 2 - 9

③ 1 6 - 8

④ 1 3 - 4

⑤ 1 5 - 5

⑥ 1 4 - 8

⑦ 1 9 - 3

パワーアップ問題 1年生のふくしゅう⑤ 「3つのかずのけいさん」	ねん          くみ
--	----------------

けいさんをしましょう

<sup>れい</sup>例      1 1 - 3 - 2

まず 1 1 - 3 をします。

○○○○○○○○○○ から ○○○ を ひくと のこりの○は  こ

だから 1 1 - 3 = 8

つぎに 8 - 2 をします。

○○○○○○○○ から ○○ を ひくと のこりの○は  こ

だから 1 1 - 3 - 2 = 6

① 1 6 - 8 - 5

② 1 3 - 4 - 5

③ 1 0 + 6 + 1

④ 2 + 3 + 4

⑤ 1 5 - 5 + 2

⑥ 1 4 - 8 + 3


⑦ 1 2 + 3 - 8


パワーアップ問題  
 1年生のふくしゅう⑥  
 「どちらがながい」

ねん くみ


ながいほうに ○をつけましょう。


例







①





②



パワーアップ問題 1年生のふくしゅう⑦ 「数のくみたて」	ねん      くみ
------------------------------------	------------

□に あう かずを かきましょう。

(例) <sup>れい</sup> 10が4こで

10が2こと 1が3こで

① 10が7こで

② 10が7こと 1が3こで

③ 10が5こと 1が8こで

④ 10が9こと 1が4こで

⑤ 10が10こで

パワーアップ問題

1年生のふくしゅう⑧


「時計のよみかた」

ねん


くみ

1. なんじですか

①




②




2. なんじなんぷんですか。

①



②



③



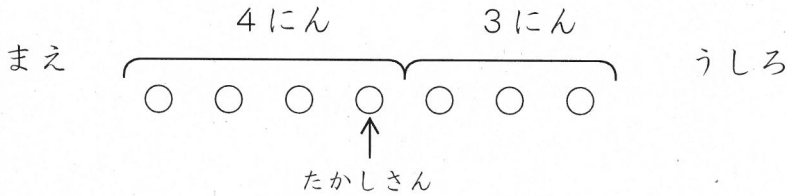


パワーアップ問題

ねん くみ

1年生のふくしゅう⑨  
「ずをつかってかんがえよう」

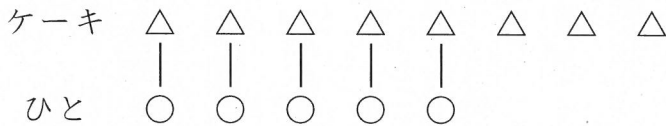
1. たかしさんは、まえから 4ばんめにいます。たかしさんのうしろに 3にんいます。  
みんなで なんにん いますか。



(しき)

(こたえ)

2. ケーキが 8こあります。5にんが 1こずつたべます。  
ケーキは なんこ のこりますか。




(しき)

(こたえ)

3. バスでいに ひとが ならんでいます。  
こうじさんの まえに 3にんいます。  
こうじさんの うしろに 4にんいます。  
ぜんぶで なんにん ならんでいますか。

ずの つづきを かいて かんがえましょう。



(しき)

(こたえ)